


Вставь пропущенные числа. **Посчитай** от 0 до 10 и обратно.

0		2		4		7		
---	--	---	--	---	--	---	--	--

10		8		5				1
----	--	---	--	---	--	--	--	---

Посчитай, сколько всего ваз? **Раскрась** четвёртую по счёту вазу красным цветом, вторую – синим, шестую зелёным. Скажи, какие по счёту вазы не раскрашены? Нарисуй по 1 цветку в первой, третьей, пятой и шестой вазе. Сколько всего цветов ты нарисовал? Чего больше ваз или цветов? На сколько больше? Чего меньше цветов или ваз? На сколько меньше?



Помоги Маше сосчитать примеры и **соедини** их линиями с правильными ответами. **Раскрась** картинку.



$3 + 4$

$6 + 2$

$2 + 5$

$3 + 5$

8

7

$1 + 4$

$1 + 6$

5

$4 + 4$


$7 + 1$

$2 + 3$


$1 + 7$

Назови фигуры.

Обозначь прямые углы красным цветом, тупые – синим, острые – зелёным. **Посчитай** углы у каждой фигуры. Какая фигура лишняя? Обведи её в кружок. **Назови** остальные фигуры одним словом (четырёхугольники).



Посмотри, перед тобой игрушки! **Раскрась** мяч, который перед кубиком, в синий цвет, за кубиком – в красный, на кубике – в жёлтый. **Раскрась** кубик, который под мячиком, в синий цвет, перед мячиком – в жёлтый, за мячиком – в зелёный цвет.



Посчитай, сколько у тебя зелёных игрушек? **Запиши** в левую клеточку.

Посчитай, сколько у тебя жёлтых игрушек? **Запиши** в правую клеточку.

--

--