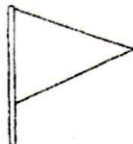


Раскрась прямоугольник с числом, которое следует за 4, зелёным цветом, а предшествует ему – синим. Прямоугольник с числом, которое следует за 7, красным цветом, а предшествует ему – зелёным. Прямоугольник с соседями числа 1 оранжевым цветом.

0	1	2	3	4	5	6	7	8	9	10
---	---	---	---	---	---	---	---	---	---	----

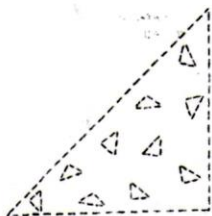
Внимательно **рассмотри** фигуры и **сравни** их.



Флажок имеет форму треугольника.
Треугольник – плоская фигура.
 Рожок мороженого имеет форму конуса.
Конус – объёмная фигура.


Соедини пунктир, назови предметы. **Раскрась** картинки.

Около предмета, похожего на конус, квадратик **закрась зелёным** цветом, а около предмета, похожего на треугольник, квадратик **закрась жёлтым** цветом.



Обведи одинаковые фигуры по точкам. Сколько квадратов ты обвёл?

Раскрась: 1 – красным, 10 – зелёным, 8 – фиолетовым, 5 – синим, 7 – жёлтым, 2 – оранжевым, 4 – голубым, 6 – розовым, 9 – коричневым, 3 – чёрным карандашами.



$$10 \xrightarrow{-5} \square \xrightarrow{+2} \square \xrightarrow{-1} \square \xrightarrow{-4} \square \xrightarrow{+8} \square \xrightarrow{-5} \square \xrightarrow{+2} \square \xrightarrow{+3} 10$$

Реш числовую цепочку.

Составь и реши примеры по картинкам. **Раскрась** картинки.



$$\square + \square = \square$$

$$\square - \square = \square$$

$$\square - \square = \square$$